

Nombre:

1.- La gráfica adjunta corresponde a la función $y = f(x)$. Determina:

a) Su dominio y recorrido.

$$D = \mathbb{R} - \{-5, -3\}$$

$$R = (-\infty, 2] \cup \{3\} \cup (4, \infty)$$

b) Los siguientes límites:

$$b_1) \lim_{x \rightarrow -\infty} f(x) = 5^-$$

$$b_2) \lim_{x \rightarrow -3} f(x) = 4$$

$$b_3) \lim_{x \rightarrow -3^+} f(x) = +\infty$$

$$b_4) \lim_{x \rightarrow -3^+} f(x) = -\infty$$

$$b_5) \lim_{x \rightarrow -2} f(x) = 2$$

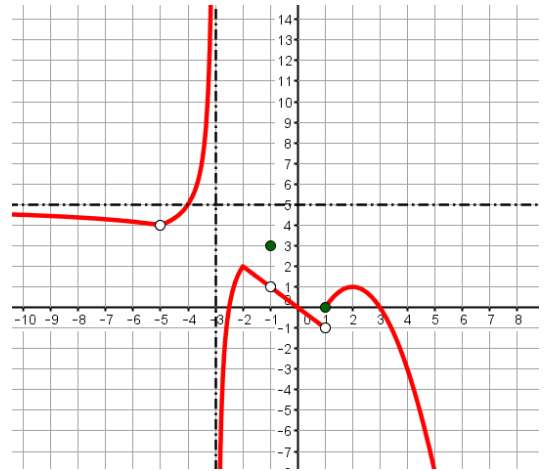
$$b_5) \lim_{x \rightarrow -1} f(x) = 1$$

$$b_6) \lim_{x \rightarrow 1^+} f(x) = -1$$

$$b_7) \lim_{x \rightarrow 1^+} f(x) = 0$$

$$b_7) \lim_{x \rightarrow 1} f(x) = \frac{1}{2}$$

$$b_8) \lim_{x \rightarrow \infty} f(x) = -\infty$$



c) Intervalos de crecimiento y decrecimiento, máximos y mínimos relativos y absolutos. ¿Está la función acotada?

$$\text{Crece : } (-5, -3) \cup (-3, -2) \cup (1, 2)$$

$$\text{Máximos : } (-2, 2) \text{ y } (2, 1)$$

$$\text{Decrece : } (-\infty, -5) \cup (-2, -1) \cup (-1, 1) \cup (2, \infty)$$

No hay absolutos y no está acotada.

d) Asíntotas, tipos y ecuaciones:

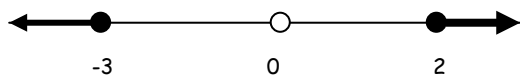
$$\text{Asíntota Vertical : } x = -3$$

$$\text{Asíntota Horizontal : } y = 5$$

2.- Dada la función: $y = \sqrt{\frac{x^2 + x - 6}{x^2}}$, indica su tipo y determina su dominio.

Se trata de una función irracional de índice par, los valores del dominio de dicha función han de cumplir:

$$\left\{ \begin{array}{l} \frac{x^2 + x - 6}{x^2} \geq 0 \xrightarrow{\text{P. Críti cos}} \left\{ \begin{array}{l} x^2 + x - 6 = 0 \rightarrow x = \frac{-1 \pm \sqrt{1 + 24}}{2} = \frac{-1 \pm 5}{2} = \begin{cases} x = 2 \\ x = -3 \end{cases} \rightarrow \text{Re llenos} \\ x^2 = 0 \rightarrow x = 0 \rightarrow \text{Hueco} \end{array} \right. \\ x^2 \neq 0 \rightarrow x \neq 0 \end{array} \right.$$



$$(-\infty, -3) \xrightarrow{-10} \frac{+}{+} = + > 0 \rightarrow \text{SI}$$

$$(-3, 0) \xrightarrow{-1} \frac{-}{+} = - < 0 \rightarrow \text{NO}$$

$$(0, 2) \xrightarrow{1} \frac{-}{+} = - < 0 \rightarrow \text{NO}$$


$$(2, \infty) \xrightarrow{10} \frac{+}{+} = + > 0 \rightarrow \text{SI}$$

$$D = (-\infty, -3] \cup [2, \infty)$$

3.- Dada La función $y = |x - 5| - |x + 3|$.: Se te pide:

a) Determina la función a trozos que le corresponde.

$$\begin{array}{l} \xrightarrow{\text{P. Críti cas}} \left\{ \begin{array}{l} x - 5 = 0 \rightarrow x = 5 \\ x + 3 = 0 \rightarrow x = -3 \end{array} \right. \end{array}$$



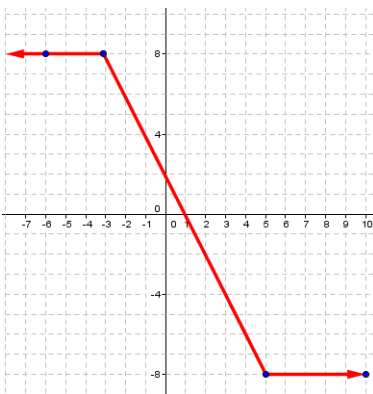
$$(-\infty, -3) \xrightarrow{-10} \left\{ \begin{array}{l} x - 5 < 0 \rightarrow |x - 5| = 5 - x \\ x + 3 < 0 \rightarrow |x + 3| = -x - 3 \end{array} \right. \rightarrow y = 8$$

$$(-3, 5) \xrightarrow{0} \left\{ \begin{array}{l} x - 5 < 0 \rightarrow |x - 5| = 5 - x \\ x + 3 > 0 \rightarrow |x + 3| = x + 3 \end{array} \right. \rightarrow y = -2x + 2$$

$$(5, \infty) \xrightarrow{10} \left\{ \begin{array}{l} x - 5 > 0 \rightarrow |x - 5| = x - 5 \\ x + 3 > 0 \rightarrow |x + 3| = x + 3 \end{array} \right. \rightarrow y = -8$$

b) Si dicha función es: $y = \begin{cases} 8 & \text{si } x < -3 \\ -2x + 2 & \text{si } -3 \leq x \leq 5 \\ -8 & \text{si } x > 5 \end{cases}$, representála e indica su dominio

y recorrido.



x	-6	-3
y	+8	+9

x	-3	5
y	+8	-8

x	5	10
y	-8	-8

$$D = \mathbb{R}$$

$$R[-8, 8]$$

4.- Dada la función: $y = e^{x+3} - 5$. Se Te pide:

a) Determina su función Inverso-Recíproca: y^{-1} .

$$y = e^{x+3} - 5 \xrightarrow{x \leftrightarrow y} x = e^{y+3} - 5 \rightarrow x + 5 = e^{y+3} \xrightarrow{\text{Ln}} \text{Ln}(x + 5) = \text{Ln} e^{y+3} \rightarrow$$

$$\rightarrow \text{Ln}(x + 5) = (y + 3) \cdot \text{Ln} e \rightarrow y + 3 = \text{Ln}(x + 5) \rightarrow y = \text{Ln}(x + 5) - 3$$

b) Si $y^{-1}(x) = \text{Ln}(x + 5) - 3$. ¿Cuánto vale $y^{-1} \circ y(x)$? Razónalo y Compruébalo.

$$y^{-1} \circ y(x) = x \text{ POR DEFINICIÓN}$$

$$y^{-1} \circ y(x) = y^{-1}(e^{x+3} - 5) = \text{Ln}(e^{x+3} - 5 + 5) - 3 = \text{Ln} e^{x+3} - 3 = x + 3 - 3 = x$$

c) Calcula el valor de $y^{-1} \circ y(-1)$ de dos formas, directamente y determinando previamente el valor $y(-1)$.

$$y^{-1} \circ y(-1) = -1 \text{ POR DEFINICIÓN}$$

$$y(-1) = e^{-1+3} - 5 = e^2 - 5$$

$$y^{-1} \circ y(-1) = y^{-1}(e^2 - 5) = \text{Ln}(e^2 - 5 + 5) - 3 = \text{Ln} e^2 - 3 = 2 - 3 = -1$$

5.- Determina el límite de las siguientes funciones e interpreta gráficamente el resultado obtenido en cada uno de ellos.

a)

$$\lim_{x \rightarrow 2} \frac{4 - x^2}{\sqrt{x+2} - 2} = \lim_{x \rightarrow 2} [-(2+x) \cdot (\sqrt{x+2} + 2)] = -16$$

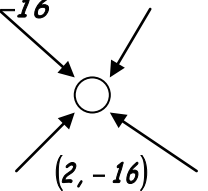
↓ RG

$$\downarrow \text{RG} \rightarrow -(2+2) \cdot (\sqrt{2+2} + 2) = -4 \cdot (2+2) = -4 \cdot 4 = -16$$

$$\frac{4 - 2^2}{\sqrt{2+2} - 2} = \frac{4 - 4}{2 - 2} = \frac{0}{0}$$

$$\frac{4 - x^2}{\sqrt{x+2} - 2} = \frac{4 - x^2}{\sqrt{x+2} - 2} \cdot \frac{\sqrt{x+2} + 2}{\sqrt{x+2} + 2} = \frac{(2+x) \cdot (2-x) \cdot (\sqrt{x+2} + 2)}{x+2-4} =$$

$$= \frac{(2+x) \cdot (2-x) \cdot (\sqrt{x+2} + 2)}{x-2} = -(2+x) \cdot (\sqrt{x+2} + 2)$$



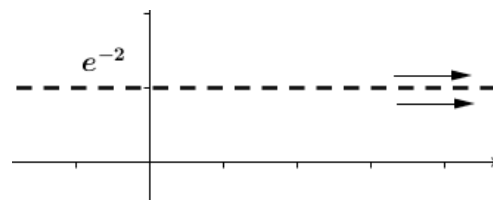
b) Propuesto

$$\lim_{x \rightarrow \infty} \left(\frac{x^2 - x}{x^2 + x} \right)^{\frac{7+x^3}{2+x^2}} = e^{\lim_{x \rightarrow \infty} \left[\frac{7+x^3}{2+x^2} \left(\frac{x^2-x}{x^2+x} - 1 \right) \right]} = e^{\lim_{x \rightarrow \infty} \left[\frac{7+x^3}{2+x^2} \left(\frac{x^2-x-x^2-x}{x^2+x} \right) \right]} = e^{\lim_{x \rightarrow \infty} \left[\frac{7+x^3}{2+x^2} \left(\frac{-2x}{x^2+x} \right) \right]} = e^{\lim_{x \rightarrow \infty} \left[\frac{-14x-2x^4}{x^4 \dots} \right]} = e^{-2}$$

↓ RG

$$\downarrow RG \rightarrow \frac{\infty}{\infty} \rightarrow \frac{-2}{1} = -2$$

$$\left(\frac{\infty}{\infty} \right)^{\infty} = \left(\frac{1}{1} \right)^{\infty} = 1^{\infty} \rightarrow \text{IND } n^{\circ} e$$



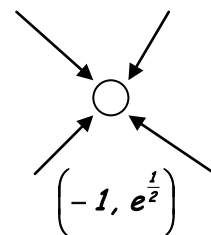
b2) Quería poner

$$\lim_{x \rightarrow -1} \left(\frac{x-1}{2x} \right)^{\frac{x^2}{x+1}} = e^{\lim_{x \rightarrow -1} \left[\frac{x^2}{x+1} \left(\frac{x-1}{2x} - 1 \right) \right]} = e^{\lim_{x \rightarrow -1} \left[\frac{x^2}{x+1} \left(\frac{x-1-2x}{2x} \right) \right]} = e^{\lim_{x \rightarrow -1} \left[\frac{x^2}{x+1} \left(\frac{-x-1}{2x} \right) \right]} = e^{\lim_{x \rightarrow -1} \left[\frac{-x^2}{2x} \right]} = e^{\frac{1}{2}}$$

↓ RG

$$\downarrow RG \rightarrow \frac{-(-1)^2}{2 \cdot (-1)} = \frac{1}{2}$$

$$\left(\frac{-1-1}{2 \cdot (-1)} \right)^{\frac{(-1)^2}{-1+1}} = \left(\frac{-2}{-2} \right)^{\frac{1}{0}} = 1^{\infty} \text{IND } n^{\circ} e$$



c)

$$\lim_{x \rightarrow \infty} \left(\frac{2x^2 - 3x}{x+5} - \frac{2x^3 - 3x^2}{x^2 - 25} \right) = \lim_{x \rightarrow \infty} \frac{-10x^2 + 15}{x^2 - 25} = -10$$

↓ RG

$$\downarrow RG \rightarrow \frac{\infty}{\infty} = \frac{-10}{1} = -10$$

$$\frac{\infty}{\infty} - \frac{\infty}{\infty} = \infty - \infty \rightarrow \text{INDT}$$

$$\frac{(2x^2 - 3x) \cdot (x - 5) - 2x^3 + 3x^2}{(x + 5) \cdot (x - 5)} = \frac{2x^3 - 10x^2 - 3x^2 + 15x - 2x^3 + 3x^2}{x^2 - 25} = \frac{-10x^2 + 15}{x^2 - 25}$$

